

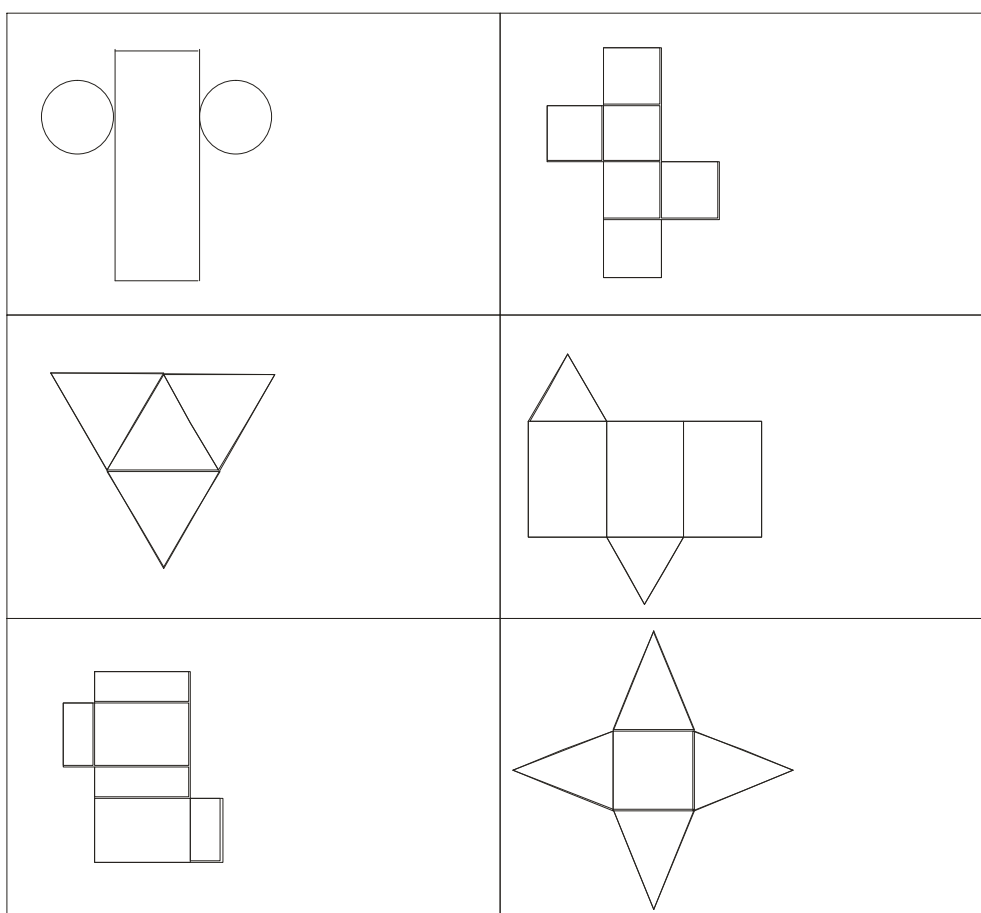
## Sítě těles – pracovní listy

*Irena Budínová*

*Pedagogická fakulta PdF MU*

[irena.budinova@seznam.cz](mailto:irena.budinova@seznam.cz)

1. Která síť zastupuje které těleso? Zapiš ke každé síti písmeno tělesa, které k ní patří.



A – krychle

B – jehlan

C – válec

D – čtyřstěn

E – kvádr


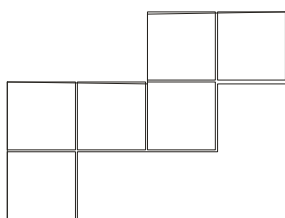

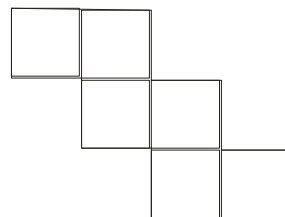
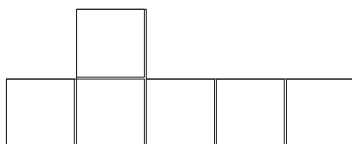
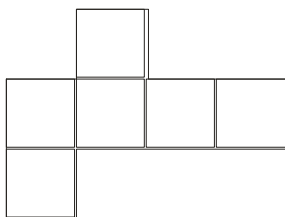
F – trojboký hranol

Materiál byl zpracován v rámci projektu "Systémová podpora trvalého profesního rozvoje (CPD) pedagogických pracovníků propojením pedagogické fakulty se školami na Jižní Moravě – **EDUCOLAND**"

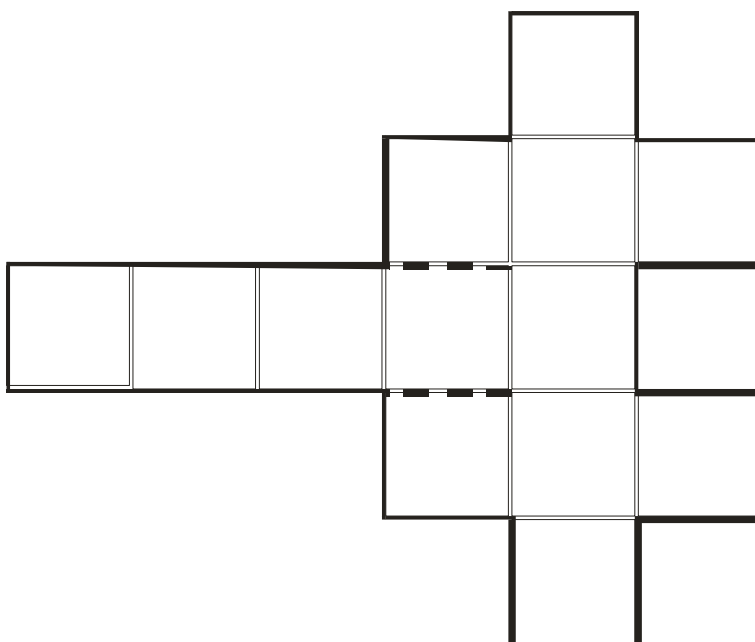
Projekt je spolufinancován Evropským sociálním fondem a státním rozpočtem ČR.

2. Z papíru si vystříhni vlastní síť a sestav si svoje tělesa.

3. Poznáš, která síť je sítí krychle? Pouze některé z následujících sítí jsou sítí krychle. Označ je. Pokud si nevíš rady, vyrob si síť a zkus z ní vytvořit krychli.



4. Vytvoř si krychli bez lepení! Vyrob si následující síť a můžeš bez lepení sestavit krychli.



## Výsledky

1. 1C, 2A, 3D, 4F, 5E, 6B

3. 1 ano, 2 ne, 3 ano, 4 ne, 5 ano, 6 ne